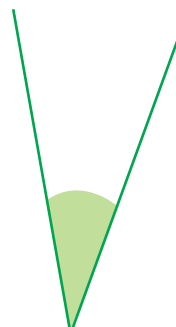


OCCHIO AGLI ANGOLI

1 - SEI UN BUON OSSERVATORE? STIMA AD OCCHIO L'AMPIEZZA DEGLI ANGOLI E SEGNA CON UNA CROCETTA LA MISURA CHE TI SEMBRA PIÙ CORRETTA.



- 90°
- $> 90^\circ$
- $< 90^\circ$




- 90°
- $> 90^\circ$
- $< 90^\circ$



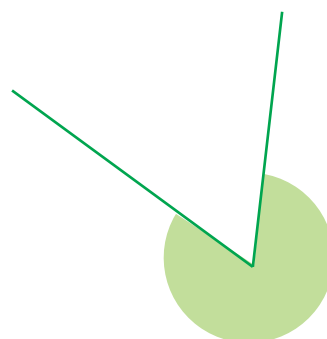
- 90°
- $> 90^\circ$
- 270°



- 90°
- 360°
- 180°



- 90°
- 180°
- 270°



- $< 90^\circ$
- $< 180^\circ$
- $> 180^\circ$

2 - COLORA SOLO LE NUVOLETTE DOVE SONO SCRITTE AFFERMAZIONI VERE.

Due angoli ottusi formano un angolo piatto.

Un angolo ottuso può misurare 70° .

Un angolo acuto è minore di un angolo retto.

Due angoli retti formano un angolo piatto.

Due angoli retti formano un angolo giro.

